


1

Ուժեղ մագնիսը կանջատի իրարից՝

- (A) սպիտակ ապակին կանաչ ապակուց:
- (B) թղթե ակսեն պլաստմասայե ակսեյից:
- (C) երկաթե մեխը ալյումինե մեխից:
- (D) ծովի ավազը շաքարավազից:

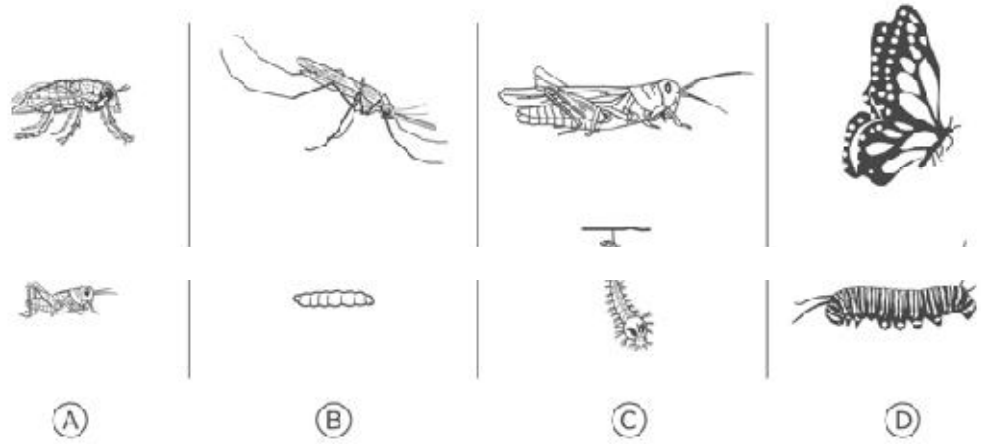
2

Օրվա տարբեր ժամերին ծառի ստվերը ունի տարբեր երկարություններ: Ո՞ր նկարում է ցույց տրված ծառի ստվերը կեսօրին (ժամը 12-ին):



3

Հետևյալ միջատներից որի՞ն է ճիշտ համապատասխանեցված իր ձագի տեսակը:






4

Օդում եղած գազերից որի՞ կարիքն ունենք մենք շնչելու համար:

- A** ազոտ
- B** թթվածին
- C** ջրածին
- D** ածխաթթու գազ

5

Հետևյալ բույսերից որո՞նք են սովորաբար աճում արևադարձային անձրևների անտառներում:



6

Դեմ նետելուց հետո ի՞նչը ամենաշուտը կքայքայվի:

- A ապակե շիշ
- B մետաղյա ափսե
- C պլաստմասայե շիշ
- D խնձորի մնացորդ:

7

Ինչո՞վ է ամենաշատը ծածկված երկրի մակերևույթը:

- A ջուր
- B քար
- C վարելահող
- D քաղաքներ և գյուղեր

8

Ինչո՞վ են մարդիկ ընկալում տեսածը, լսածը, համտեսածը և հոտը:

- A ուղեղ
- B ողնուղեղ
- C ռեցեպտորներ
- D մաշկ

**9**

Միլիոնավոր տարիներ առաջ ապրած դինոզավրի բրածոն որտե՞ղ կարող է գտնվել:

- A օվկիանոսի ջրերում
- B լճերը ծածկող սառույցում
- C ծառի բնում
- D ընդերքի ապարներում

**10**

Ինչի՞ շուրջն է Երկիրը տարին մեկ պտույտ կատարում:

- A Մարսի
- B Արեգակի
- C Լուսնի
- D Բոլոր մոլորակների

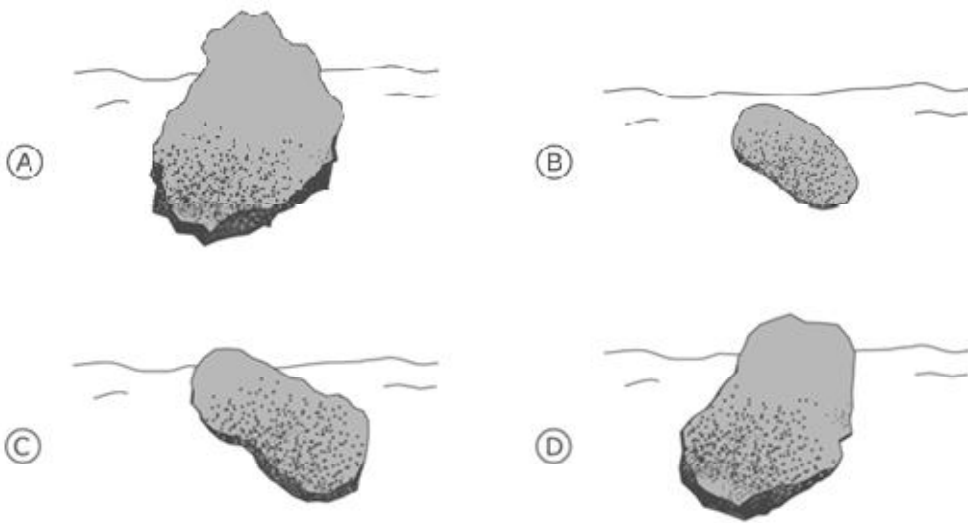
**11**

Ի՞նչ է կատարվում, երբ ջուրը եռում է:

- A Այն փոխում է իր գույնը:
- B Այն ծանրանում է:
- C Այն գոլորշիանում է:
- D Պղպաձակները վերանում են:

**12**

Լիլիթը գետի ափին գտավ միևնույն նյութից ստացված չորս քար: Դրանք տարբեր տեսք և չափեր ունեին: Դրանցից ո՞րն էր հավանաբար ամենաշատը մնացել ջրի տակ:



**13**

Ո՞ր շարքում են բերված միայն կենդանի էակներ:

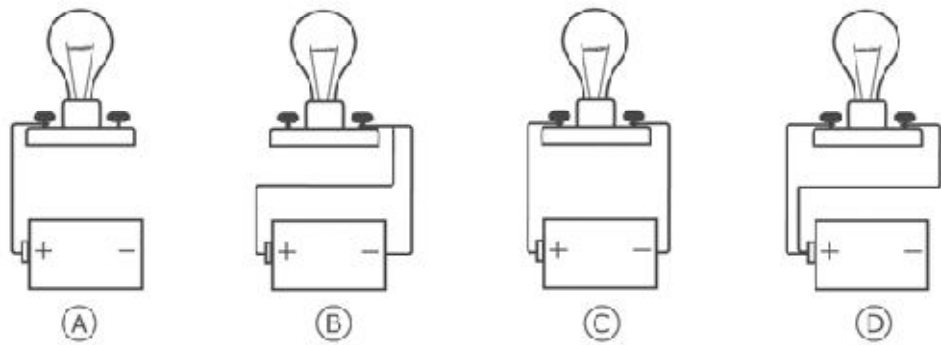
- A ճագար, սերմ, թռչուն
- B սերմ, թռչուն, քամի
- C հրաբուխ, մոմ, ճագար
- D քամի, մոմ, հրաբուխ

14

Մարդիկ պետք է խուսափեն չափից դուրս շատ արևի տակ մնալուց: Նշիր մեկ բան, որ կարող է պատահել նրանց հետ, եթե շատ մնան արևի տակ:


15

Նկարում ցուցադրված է մարտկոցին միացված լամպ: Ո՞ր լամպը կվառվի:



16

Չետևյալներից որո՞նք են միջատ:



- A միայն 1-ը և 3-ը
- B միայն 1-ը և 4-ը
- C միայն 2-ը և 4-ը
- D միայն 3-ը և 4-ը

**17**

Չետևյալ կենդանիներից ո՞րը ձու չի դնում:

- A հավ
- B շուն
- C գորտ
- D կրիա

**18**

Ի՞նչ է օճառի պղպջակների ներսում:

- A օդ
- B օճառ
- C ջուր
- D ոչինչ

**19**

Չետևյալներից ո՞րն է ամենատաքը:

- A Երկիր
- B Մարս
- C Լուսին
- D Արև

**20**

Նկարագրիր, թե ինչ կպատահի գետի բուսականության և կենդանիների հետ, եթե գործարանը մեծ ծավալով եռացրած ջուր լցնի գետը: