

ԳՆԱՀԱՏՄԱՆ ԵՎ ԹԵՍՏԱՎՈՐՄԱՆ ԿԵՆՏՐՈՆ

ՇԱԽՄԱՏ

ՈՒՍՈՒՑԻՉՆԵՐԻ ԿԱՄԱՎՈՐ ԱՏԵՍՏԱՎՈՐՄԱՆ
ՔՆՆԱԿԱՆ ԹԵՍՏԻ

Ո Ւ Ղ Ե Ց Ո Ւ Յ Յ

ԵՐԵՎԱՆ 2024

Թեմաները՝

1. Շախմատի աշխարհի չեմպիոններ
2. Տեսական հարցեր շախմատի թեմաներից
3. Երկքայլանի մատային խնդիրներ
4. Ցուզցվանգ երկքայլանի մատային խնդիրներ
5. Մարտավարական հնարքներ
6. Երկու փղով մատ
7. Խուսափում պատից
8. Ջինվորային վերջնախաղեր
9. Թագուհին զինվորի դեմ վերջնախաղ
10. Երկքայլանի մատային խնդիր-գլուխկոտրուկներ
11. Չիով և փղով մատ
12. Նավակը զինվորի դեմ վերջնախաղ
13. Չին զինվորի դեմ վերջնախաղ

Թեստը կազմված է 60 հարցից, որից 40-ը շախմատային առաջադրանքներ են, 20-ը շախմատի աշխարհի չեմպիոններ և շախմատի տեսական հարցեր են:

Օգտագործված գրականություն

1. Շախմատ առարկայի դասագրքեր և տետրեր 3-4 դասարաններ:
2. Շախմատ 3 Ուսուցչի ձեռնարկ Երևան, Ջանգալ 2012
3. Շախմատ 4 Ուսուցչի ձեռնարկ Երևան, Տիգրան Մեծ 2013
4. Հ. Մոկացյան Հետաքրքրաշարժ մանրաքանդակներ
5. Լ. Գալոյան Դինամիկ շախմատ գիրք Բ Երևան, Տիգրան Մեծ 2018

6. А.А. Тишков В. И. Чепижный Шахматные задачи- миннатурьы Москва 1987
7. С. Иващенко CHESS SCHOOL 1b Учебник шахматных комбинаций Москва 2007
8. В. Голенищев Программа подготовки шахматистов II-III разрядов Москва 2011
9. Шахматный Университет -7 Программа подготовки шахматистов-разрядников II-I разряд Москва 2005

Թեստի նմուշ

1. Շախմատի աշխարհի ո՞ր չեմպիոնն է եղել մաթեմատիկոս և փիլիսոփա:

1. Մ. Էյվե
2. Վ.Անանդ
3. Տ. Պետրոսյան
4. Էմ. Լասկեր

2. Շախմատի աշխարհի չեմպիոններից ո՞վ է եղել օպերային երգիչ:

1. Խ. Ռ. Կապարևանկա

2. Վ. Սմիսլով

3. Վ. Կրամնիկ

4. Ա. Կարպով

3. Ո՞րը ռազմավարական հնարք չէ:

1. Թույլ դաշտի գրավում

2. Գծի ազատում

3. Գծային հարված

4. Բաց գծի գրավում

2. Վերջնախաղում արքան ինչպի՞սի խաղաքար է:

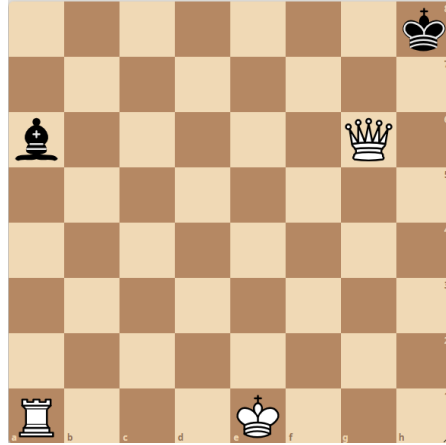
1. Պասիվ

2. Թույլ

3. Հպարտ

4. Ակտիվ

3. Տրված դիրքում քայլը սպիտակներինն է: Մատ 2 քայլից: Նշեք առաջին ճիշտ քայլը:



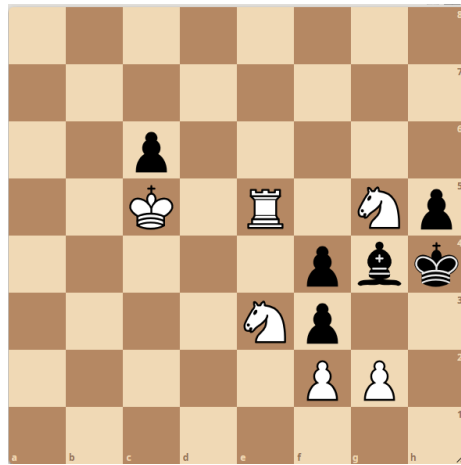
1. 1. Նa5

2. 1. 0-0-0

3. 1. Նa4

4. 1. Նa2

4. Տրված դիրքում քայլը սպիտակներինն է: Մատ 2 քայլից: Նշեք առաջին ճիշտ քայլը:



1. 1. Նf5

2. 1. Նe7

3. 1. Նe8

4. 1. Նe6

5. Տրված դիրքում քայլը սևերինն է: Երկու կողմերի ճիշտ խաղի դեպքում ամենաքիչը քանի՞ քայլից սևերը մատ կհայտարարեն:



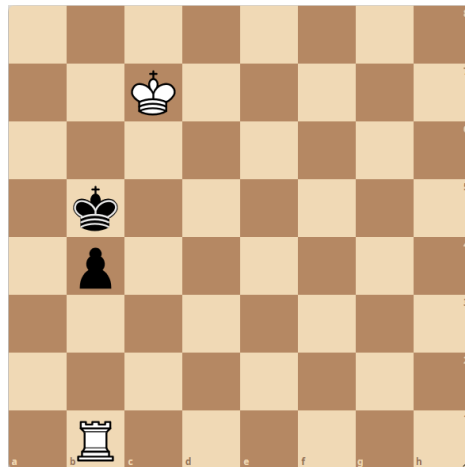
1. 7

2. 6

3. 5

4. 4

6. Տրված դիրքում քայլը սպիտակներինն է, հաղթանակ: Նշեք առաջին ճիշտ քայլը:



1. 1. Նa1

2. 1. Նc1

3. 1. Աb7

4. 1. Աd6